

Etu- ja sukunimi	Luokka	Pisteet _____ / 49 pistettä
Koulu ja kunta		
Aluehallintovirasto AVI		

1. Nuoret oppivat rahankäyttöä usein kotoa. Kuinka huoltajat voivat edistää lastensa taloustaitoja?

Kirjoita alle kolme konkreettista ehdotusta.

2. Olet saanut kesätöitä. Sinulla on tapaaminen työnantajasi kanssa.

_____ / 3 pistettä

a) Laadi neljän kohdan lista asioista, jotka sinun on sovittava työnantajasi kanssa.

b) Laita rasti oikean vaihtoehdon kohdalle.

_____ / 4 pistettä

	Työsopimus	Työehtosopimus TES
Työntekijä ja työnantaja sopivat.		
Sovitaan alakohtaiset minimiehdot.		
Määräaikainen tai toistaiseksi sovittu sopimus.		
Valtakunnallinen ja määräaikainen sopimus.		

_____ / 2 pistettä

3. Thomas on 19-vuotias lähihoitaja, jonka bruttopalkka vuodessa on 26 000 €.

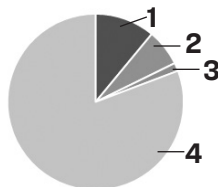
a) Mitä tarkoittaa bruttopalkka?

b) Mitä tarkoittaa nettopalkka?

_____ / 1 piste

c) Sijoita Thomaksen palkasta pidettävät verot ja veroluontoiset maksut oikeisiin kohtiin .

_____ / 1 piste



Nettopalkka =
 Ansiotulovero =
 Eläkevakuutusmaksu =
 Työttömyysvakuutusmaksu =

_____ / 2 pistettä

d) Thomas menee kauppaan ja ostaa lenkkiosut. Kuinka monta prosenttia kenkien hinnasta on arvonlisäveroä?

Ympyröi oikea vaihtoehto.

_____ / 1 piste

0 % 10 % 14 % 24 %

e) Thomas saa kummisedältään perintönä pörssiosakkeita 10 000 euron arvosta.

Ympyröi alta oikea perintöveron määrä.

_____ / 1 piste

0€ 700€ 1000€ 3300€

4. Talouslehdissä julkaistaan oheisen kaltaisia taulukoita , jotka liittyvät pörssiosakkeisiin.

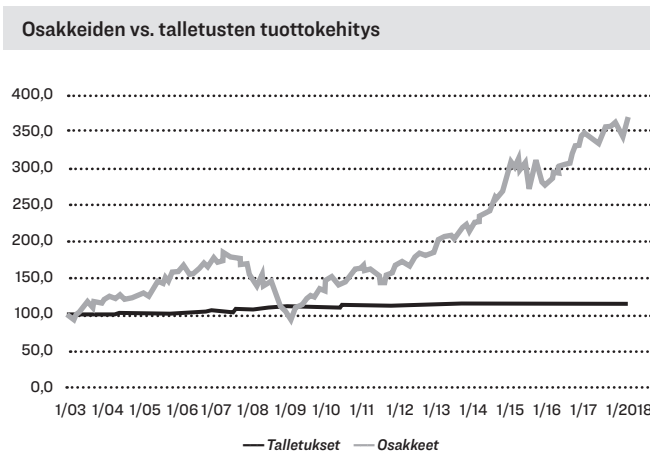
Nimi	Viimeisin	Muutos	Muutos %	Aika	P/E	Osinkotuotto	Vaihto	Kpl
NORDEA BANK ABP	7,96€	-0,03	-0,41%	10:48	10,12	8,97	4 milj. €	514 779
STORA ENSO OYJ R	12,030€	-0,10	-0,82%	10:48	9,40	4,16	4 milj. €	297 798
NOKIA CORPORATION	5,366€	-0,01	-0,26%	10:48	-	3,75	4 milj. €	670 416
FORTUM CORPORATION	19,30€	-0,14	-0,72%	10:48	20,31	5,70	3 milj. €	153 718

<https://www.is.fi/taloussanomat/porssi/> haettu 7.3.2019

Tarkastele oheista taulukkoa ja vastaa kysymyksiin. Mitä tarkoittaa

- a) nimi _____ / 1 piste
- b) muutos% _____ / 1 piste
- c) osinkotuotto _____ / 1 piste

d) Alla olevassa kuvassa näkyy talletusten arvon kehitys ja osakesijoitusten arvon kehitys pitkällä aikavälillä. Perustele, kumpaa sijoituskohdetta suosittelet, jos tavoitteena on



Säästää vuoden päästä tehtävää ulkomaanmatkaa varten?

_____ / 2 pistettä

Säästää 40 vuoden päästä alkavia omia eläkepäiviä varten?

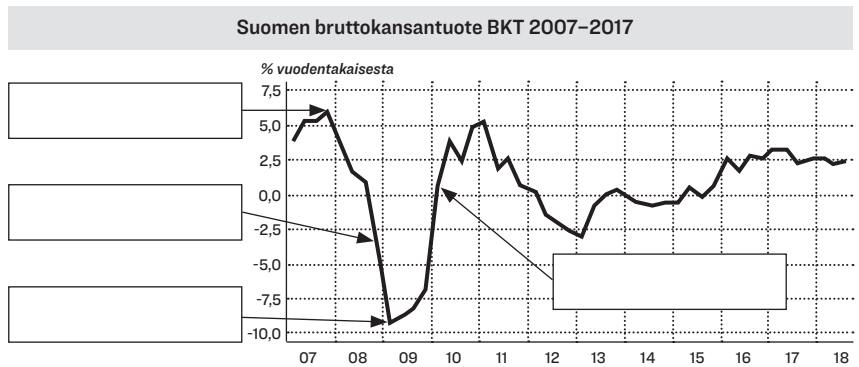
_____ / 2 pistettä

5. Tutki alla olevaa kuvaajaa bruttokansantuotteesta Suomessa v. 2007–2017 ja vastaa kysymyksiin.

a) Nimeä oheiseen kuvioon talouden suhdannevaiheet. _____ / 2 pistettä

b) Mitä BKT mittaa?

 _____ / 1 piste



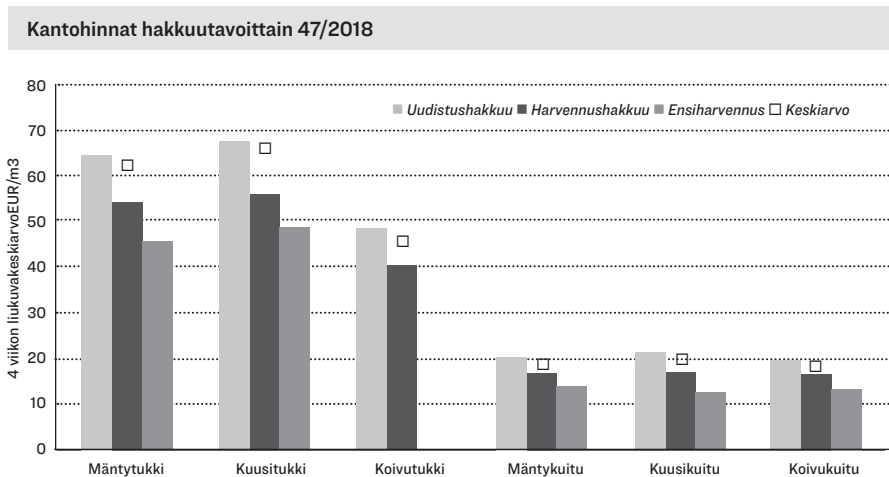
c) Mitä ongelmia BKT:ssa on taloudellisena mittarina?

_____ / 2 pistettä

d) Valitse kuviosta yksi suhdannevaihe. Kirjoita se tähän _____
 Kerro valitsemasi suhdannevaiheen kaksi vaikutusta Suomen kansantalouteen.

_____ / 2 pistettä

6. Oheisessa kuvaajassa näkyvät eri puulajien kantohintoja erilaisilla hakkuutavoilla.



a) Mikä oli mäntytukin kantohinta uudistushakkuussa kuutiota kohti viikolla 47?

_____ / 1 piste

Lähde: Metsäteollisuus ry

b) Vuosi 2018 oli metsäteollisuudelle hyvä vuosi.

Mainitse kaksi syytä sille, että metsäteollisuudella menee tällä hetkellä hyvin.

_____ / 2 pistettä

c) Nimeä neljä suomalaista metsäteollisuuden tuotetta.

_____ / 2 pistettä

7. "Supercell Oy on suomalainen videopelejä kehittävä yritys. Sen liikevaihto syntyi vuonna 2015 kolmesta pelistä, jotka ovat maatalousaiheinen Hay Day sekä strategiapelit Clash of Clans ja Boom Beach. Yritys oli niiden ansiosta vuoden 2015 tuottavin mobiilipeliyritys maailmanlaajuisesti. Clash Royale julkaistiin maaliskuussa 2016, jolloin yritys myös tiedotti, että sen pelit ylittivät ensi kertaa 100 miljoonan päivittäisen pelaajan rajan."

Lähde: Wikipedia (2019): Supercell. <https://fi.wikipedia.org/wiki/Supercell>

Supercellin liikevaihto perustuu mikromaksuihin, joita pelien pelaajat maksavat pelien sisällä.

a) Kuinka paljon Supercell ansaitsi rahaa päivässä, jos kaikki pelaajat maaliskuussa 2016 maksoivat päivässä 10 senttiä. Ympyröi oikea vastaus.

_____ / 1 piste

yli 100 000 euroa

yli 10 miljoonaa euroa

yli 100 miljoonaa euroa

b) Millä muilla keinoilla peliyritykset voivat ansaita rahaa?

_____ / 2 pistettä

c) Supercell käytti helmikuussa 2015 noin 8 miljoonaa euroa noin minuutin mittaiseen mainokseen suuren amerikkalaisen urheilutapahtuman Super Bowlin mainoskatkolla. Miksi yhtiön kannatti käyttää yhteen mainokseen näin paljon rahaa?

_____ / 2 pistettä

8. Maailmankaupassa tapahtuvat muutokset vaikuttavat Suomen kansantalouteen enemmän kuin monien muiden maiden talouksiin.

Pohdi mahdollisen kauppasodan, erilaisten tullimaksujen ja muiden kaupankäynnin rajoitusten vaikutuksia maailmankauppaan sekä Suomen kansantalouteen.

Pohdi, miksi monet valtiot haluavat rajoittaa kaupankäyntiä toisten valtioiden kanssa.

Kuva liittyy aiheeseen. Mitä piirtäjä on mielestäsi halunnut kuvallaan kertoa?

Lähde: <https://www.aamulehti.fi/a/200805570> Aamulehti, J. Sihto