

GURU

TALOUS EKONOMI

2013

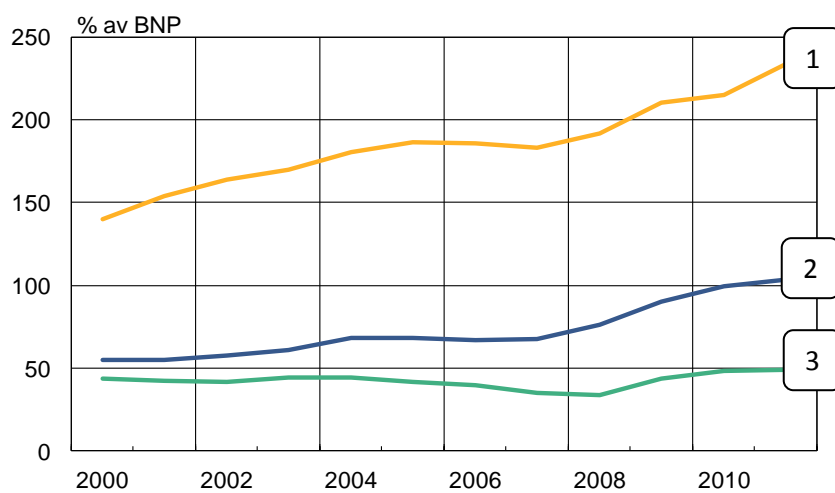
Ekonomiguru 2013, 16 januari 2013 kl. 9–11

1. Kombinera rätt (3 poäng)

a) Kombinera med ett streck land och offentlig skuld av BNP. (1 poäng)

USA	1
Japan	2
Finland	3

Offentlig skuld

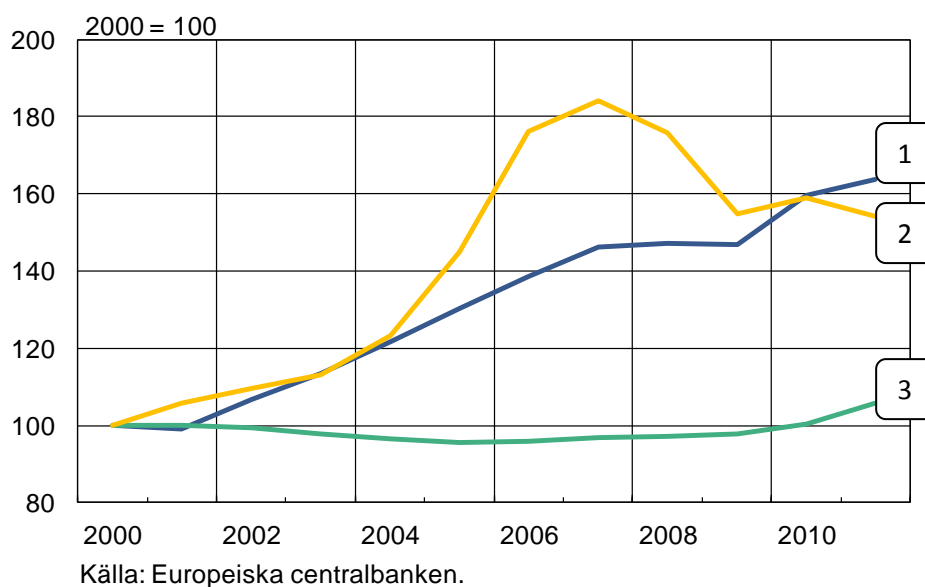


Källa: Europeiska kommissionen.

b) Kombinera land och utveckling av bostadspriserna (index där 2 000 = 100). (1 poäng)

Danmark	1
Finland	2
Tyskland	3

Bostadspriser



c) Kombinera med rätt procenttal. (Siffrorna är från oktober 2012.) (1 poäng)

1. Arbetslösheten i Finland	2,6 %
2. Genomsnittsräntan på utestående bostadslån i Finland	6,9 %
3. Inflationen, dvs. den årliga konsumentprisförändringen	1,75 %
4. Hushållens skuldsättningsgrad	117,8 %

2. Ny pekplatta (3 poäng)

Du vill köpa en ny pekplatta som kostar 400 euro. Du har inga besparingar från förut utan tar en kredit hos butiken som säljer plattan. Årsräntan på krediten är 7,2 %. Expeditionsavgiften på lånet är 80 euro som läggs till kapitalet.

Du avtalar med butiken om att du betalar lånet i fyra jämna rater, så att du efter varje delbetalning endast behöver betala ränta på det återstående kapitalet. Faktureringsavgiften som tas ut per kvartal är 6 euro. Löptiden är ett år.

- a) Hur stor är den första delbetalningen? Observera att du får räntan per kvartal genom att dividera från årsräntan. (1 poäng)
- b) Hur mycket kommer pekplattan att kosta totalt? (1 poäng)
- c) Hur hög är den egentliga årsräntan? (1 poäng)

3. Förklara följande termer i korthet (6 poäng)

1. Centraliserad löneuppgörelse
2. Lånetak
3. OPEC
4. Samhällsgarantin för unga
5. Utdelning (Dividend)
6. Uppstartföretag (Startupföretag)

4. Essä: Finlands konkurrenskraft (9 poäng)

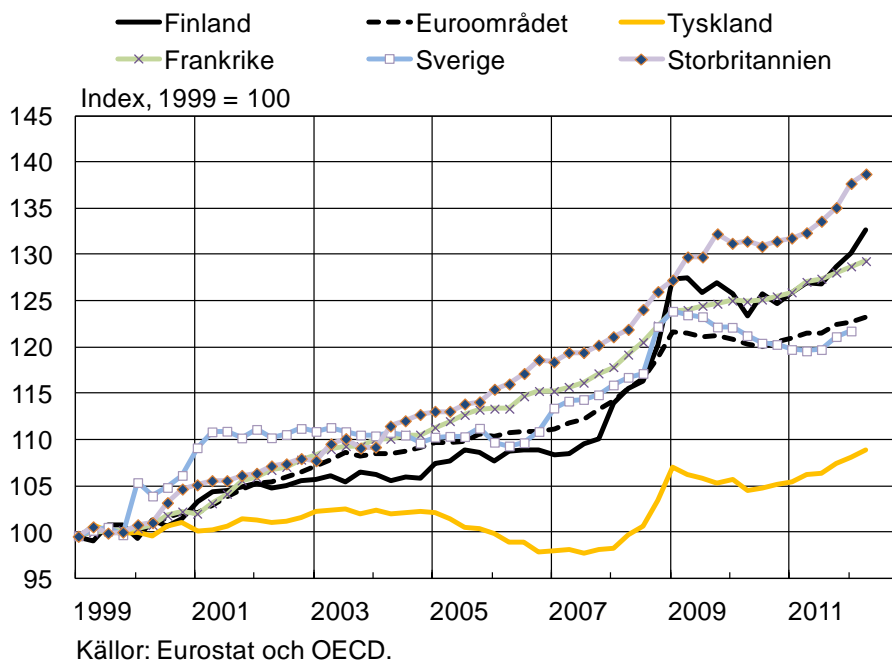
Bedöm utvecklingen av den finska exportindustrins konkurrenskraft sedan införandet av euron, stöd dig på de bifogade figurerna. Vilka faktorer har bidragit till utvecklingen av konkurrenskraften?

Enhetsarbetskostnaderna erhålls genom att ersättningarna per anställd divideras med arbetsproduktiviteten per anställd.

Bytesförhållandet är kvoten mellan exportpriser och importpriser.

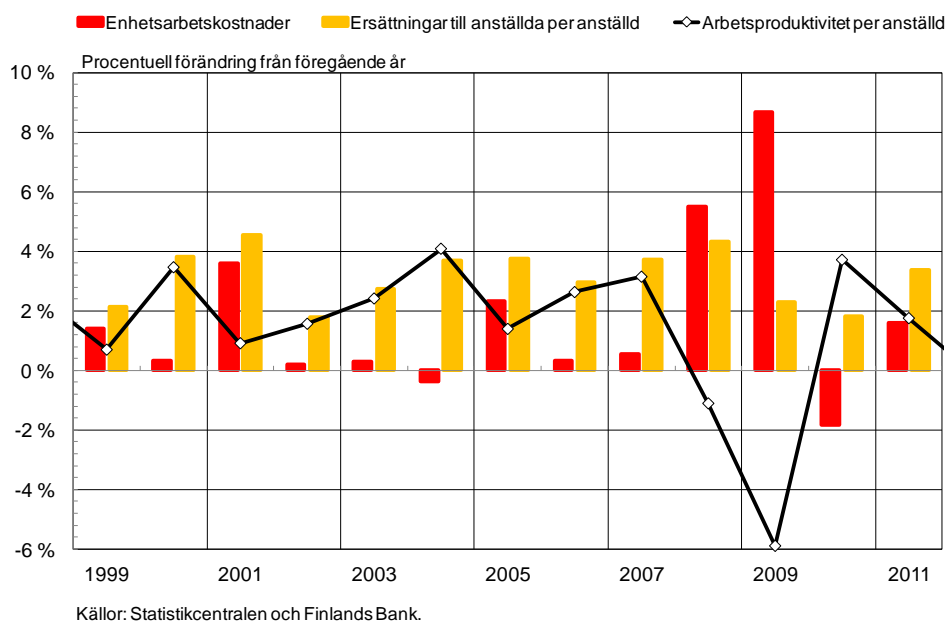
Figur 1

Enhetsarbetskostnader i vissa EU-länder



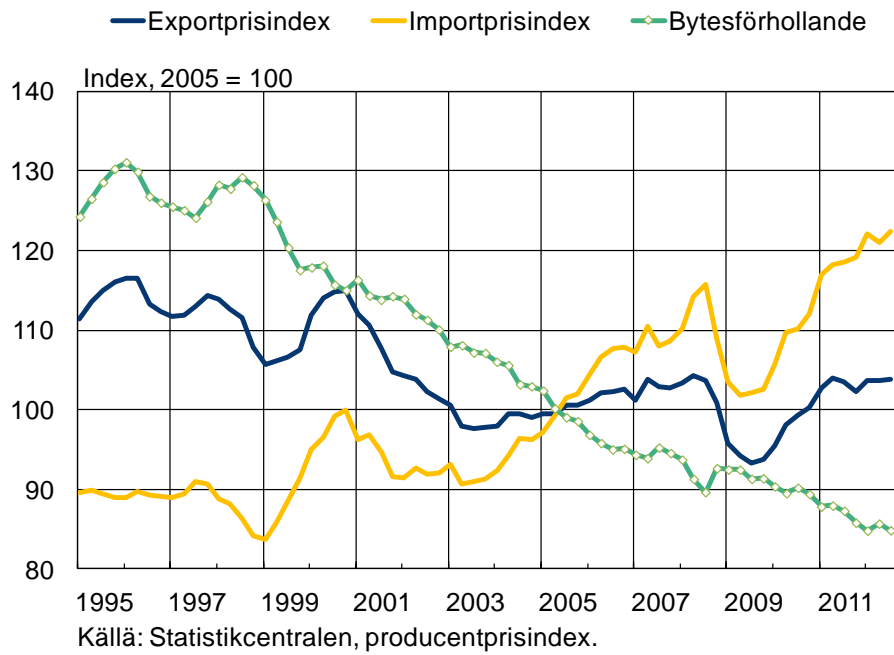
Figur 2

Enhetsarbetskostnader, ersättningar till anställda och arbetsproduktivet i Finland



Figur 3

Finlands export- och importpriser och bytesförhållande



Figur 4

