





3. Oheisesta tekstistä puuttuu sanoja. Kirjoita tyhjään kohtaan oikea sana. Sanan ensimmäinen kirjain on annettu valmiiksi.

Antti pääsi töihin vaatekaupan varastolle. Ennen töiden aloittamista hän allekirjoitti t _____ .
 Siihen kuului yhden kuukauden k _____ , jonka aikana hän tai työnantaja voi purkaa työ-
 suhteen. Palkanmaksua ja ennakonpidätystä varten työnantaja pyysi Anttia tuomaan mukanaan
 v _____ . Antti arveli, että vaikka hänen palkkansa oli pieni, tulisi käteen jäävä
 n _____ olemaan kuitenkin ihan mukava Antin pienen v _____ vuoksi.
 Jos Antti pääsee syksyllä tavoittelemansa opiskelupaikkaan, tulee hänen ilmoittaa töiden lopettamisesta
 työnantajalle etukäteen, koska hänellä on 14 vuorokauden i _____ . Työsuhteen lopussa
 Antin kannattaa pyytää työnantajalta t _____ , koska siitä voi olla apua työpaikan saannissa
 tulevaisuudessa. _____/4 p.

4. Ekologinen jalanjälki kuvaa sitä, kuinka suuri maa- ja vesialue tarvitaan ihmisten kuluttaman ravinnon, materiaalien ja energian tuottamiseen sekä jätteiden käsittelyyn. Ekologinen jalanjälki ilmaistaan usein ”maapalloina”. Näin havainnollistetaan kulutuksen määrää eri maissa väestömäärään suhteutettuna.

a) Kirjoita oikea maan nimi oikean ekologisen jalanjäljen perään

SUOMI	USA	KIINA	SAMBIA
-------	-----	-------	--------

- 2,2 ”maapalloa”  € _____
- 6,2 ”maapalloa”  € _____
- 0,8 ”maapalloa”  _____
- 8,0 ”maapalloa”  _____



_____/3 p.

b) Miten kotitaloudet voivat pienentää ekologista jalanjälkeään asumiseen liittyvillä kulutusvalinnoillaan? Mainitse neljä asiaa.

_____/3 p.

c) Miten valtio voi pienentää ekologista jalanjälkeä Suomessa? Mainitse kaksi asiaa.

_____/2 p.

5. Makeisvero nosti makeisten hintaa vuoden 2011 alusta lähtien.

a) Mihin eduskunta pyrki makeisveron käyttöönotolla? Mainitse kaksi asiaa.

_____/2 p.

b) Mitä epäkohtia vain makeisiin kohdistuvalla makeisverolla on? Mainitse kolme asiaa.

_____/3 p.



6. a) Tutki oheista kaaviota. Mitkä olivat Suomen kolme tärkeintä vientimaata tammi-kesäkuussa vuonna 2010? Luettele ne viennin arvon mukaisessa suuruusjärjestyksessä.

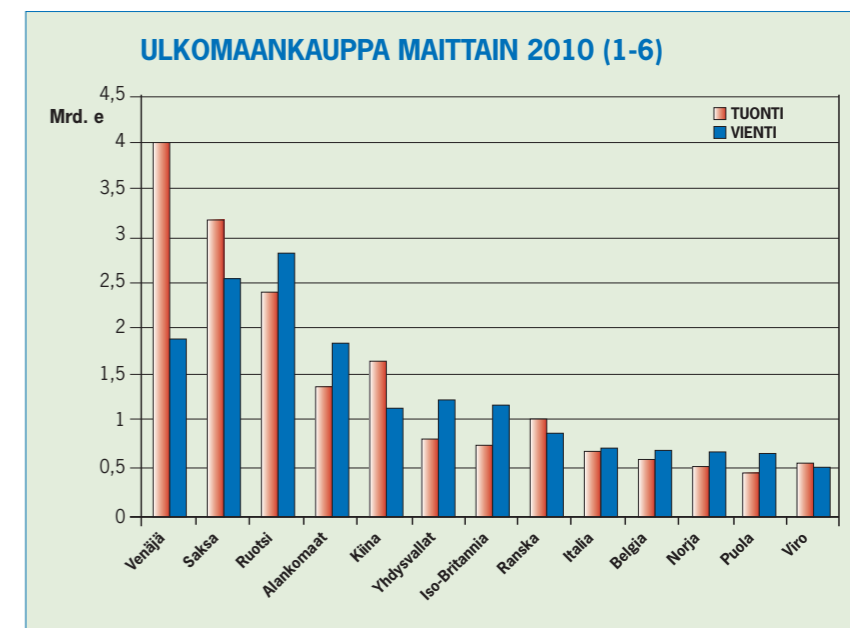
- _____
 - _____
 - _____
- _____/2 p.

b) Minkä maiden kanssa Suomen ulkomaankauppa oli alijäämäistä?

_____/3 p.

c) Miksi vienti on Suomen kansantaloudelle tärkeää? Mainitse kaksi asiaa.

_____/2 p.



Lähde: www.tulli.fi

